

Kitabın Adı

GOLD Soru Bankası - 1

978-605-7911-61-2

Yayın Yönetmeni

Nebi NEMUTLU

Yazar

Komisyon

Editörler

Elif NEMUTLU

Nursu NEMUTLU ÖZTÜRK

Dizgi Grafik Tasarımı

Yasemin IŞIK

Mutlu Yayıncılık San. ve Tic. Ltd. Şti.

www.e-mutlu.com

Yayıncı Sertifika No.

10628

WPC Matbaacılık Sanayi ve Ticaret A.S.

Osmangazi Mah. Mehmet Kopuz Sok.

No.: 17/1 Kıraç - Esenyurt

İSTANBUL

Matbaa Sertifika No.

50884

İstanbul, 2022



MUTLU
YAYINCILIK



Her hakkı ©Mutlu Yayıncılık'a aittir.
Kısmen de olsa alıntı yapılamaz. Metin, soru,
şekil ve grafikler, ELEKTRONİK, mekanik,
FOTOKOPİ ya da herhangi bir kayıt sistemiyle
çoğaltılamaz, yayımlanamaz.

ÖNSÖZ



MUTLU YAYINCILIK olarak,

1986'dan itibaren her gün "Eğitim ve öğretime ne değer katabiliriz?" sorusunu sorarak güne başlarız. Ürettiğimiz tüm ürünlerde önceliğimiz;

- İçerik Kalitesi
- Doğru ve Seviyeye Uygun Bilgi
- Net, Basit ve Kolay Anlaşılır Olması
- Görsel Kalitesi
- Basit, Kullanışlı Grafik ve Dizayn
- Kaliteli Malzeme
- Eğitim Teknolojilerini Kullanmak, Geliştirmek
- Öğrenci ve Öğretmenlerimizin Hayatlarını Kolaylaştırmaktır.

Sloganimız: "**İLERLEMEYE DEVAM ET!**"

Değerli Öğretmenlerimiz, Sevgili Öğrenciler,

"**Gold Yeni Nesil Soru Bankası**" tüm dersleri kapsamaktadır.

Kitabımız "**Ünite Ünite, Kazanım Kazanım**" hazırlanmıştır. Kitabımızı bir öğretim yılı boyunca, istediğiniz zaman diliminde kullanmaya başlayabilirsiniz.

Her sayfada yeni nesil ve farklı düşünmeyi geliştiren sorulara yer verilmiştir.

Bu soruları hazırlarken genellikle gerçek bilgilerden yararlanılmaya özen gösterilmiştir.

Gerçek bilgilerin kullanılmasının amacı; öğrencimizin merak etmesini, merak ederek öğrenmesini, daha çok sorgulamasını, kitabın içine daha çok katılmasını sağlamaktır.

Bazı gerçek bilgiler öncül olarak verilmiş ama soru ile ilişkilendirilmemiştir. Bu özellikle uygulanmıştır.

Amacı; yeni bilgi vermek, bütünü okuyup sorudan ayırt edebilmek, okuduğunu anlayıp anlamadığını test etmektir.

Yeni nesil soruları çözerken biraz zorlanabilirsiniz.

Bu sorular sizleri ileriki yıllarda çıkması muhtemel olan sınavlara hazırlamak ve farklı düşünmenize yardımcı olmak için konulmuştur.

Saygıdeğer Velimiz,

Dünya baş döndürücü şekilde değişiyor. Anne, babalarımız ve bizlerin arasındaki fark gibi, çocuklarımızla da bizlerin arasında uçurumlar oluşuyor.

Sizlerin eğitimde doğru bildiğiniz birçok şey, çocuklarımız için bir anlam ifade etmiyor.

Çocuklar, içinde bulunduğumuz teknoloji çağında özellikle pratik, hızlı ve kolay olana yöneliyorlar.

Bizler sadece onlara sevgi ve değer vermeli, onların yanında olduğumuzu hissettirmeli ve onları cesaretlendirmeliyiz.

Gelecek Onların.

Saygılarımızla...

Küçük Hanımlar, Küçük Beyler
Sizler, hepiniz, geleceğin bir gülü, yıldızı, bir
mutluluk parlısısınız.
Memleketi asıl aydınlığa boğacak olan sizsiniz.
Kendinizin ne kadar mühim, kıymetli olduğunuzu
düşünerek,
Ona göre çalışınız.
Sizlerden çok şeyler bekliyoruz!

M. Kemal ATATÜRK

K. Atatürk



MATEMATİK

1. Ünite	UZAMSAL İLİŞKİLER	Test 1	Uzamsal İlişkiler - Durum, Yer, Yön İlişkileri.....	7
		Test 2	Uzamsal İlişkiler - Eş Nesnelere	9
		Test 3	Tartma - Ağır ve Hafif	11
		Test 4	Yeni Nesil Sorular	13
2. Ünite	DOĞAL SAYILAR	Test 5	Doğal Sayılar - Rakamlar - Nesne Sayıları.....	17
		Test 6	Doğal Sayılar - Önceki, Sonraki Sayılar - Ritmik Sayma	19
		Test 7	Doğal Sayılar - Ritmik Sayma	21
		Test 8	Doğal Sayılar - Nesne Sayılarını Karşılaştırma	23
		Test 9	10'dan Büyük / 10'dan Küçük	25
		Test 10	Onluk ve Birliklere Ayırma.....	27
		Test 11	Sıra Bildiren Sayılar	29
Test 12	Yeni Nesil Sorular	31		
3. Ünite	TOPLAMA VE ÇIKARMA İŞLEMİ	Test 13	Toplama İşlemi.....	35
		Test 14	Toplama İşlemi.....	37
		Test 15	Toplama İşlemi, Toplananların Yer Değiştirilmesi.....	41
		Test 16	Çıkarma İşlemi	43
		Test 17	Çıkarma İşlemi	45
Test 18	Yeni Nesil Sorular	47		
4. Ünite	PARALARIMIZ TOPLAMA VE ÇIKARMA İŞLEMİ	Test 19	Paralarımız	51
		Test 20	Verilmeyen Toplananı Bulma	55
		Test 21	Zihinden Toplama İşlemi.....	59
		Test 22	Toplama İşlemi Problemleri.....	63
		Test 23	Toplama İşlemi Problemleri.....	67
		Test 24	Zihinden Çıkarma İşlemi.....	71
		Test 25	Çıkarma İşlemi Problemleri	75
		Test 26	Çıkarma İşlemi Problemleri	79
Test 27	Yeni Nesil Sorular	83		
5. Ünite	KESİRLER ZAMANI ÖLÇME GEOMETRİ	Test 28	Kesirler (Bütün, Yarım)	87
		Test 29	Zaman Ölçme	89
		Test 30	Zaman Ölçme	93
		Test 31	Geometrik Cisimler ve Şekiller.....	97
		Test 32	Geometrik Cisimler ve Şekiller.....	101
		Test 33	Örüntüler	105
Test 34	Yeni Nesil Sorular	107		
6. Ünite	VERİ TOPLAMA UZUNLUK ÖLÇME SIVI ÖLÇME	Test 35	Veri Toplama ve Değerlendirme.....	111
		Test 36	Veri Toplama ve Değerlendirme.....	113
		Test 37	Uzunluk Ölçme	115
		Test 38	Uzunluk Ölçme - Uzunlukları Karşılaştırma.....	119
		Test 39	Sıvı Ölçme	121
		Test 40	Sıvı Ölçme	125
Test 41	Yeni Nesil Sorular	127		

TÜRKÇE

Harf ve Hece Bilgisi

Test 1	Harf Bilgisi	129
Test 2	Hece Bilgisi	131
Test 3	Harf ve Hece Bilgisi.....	133
Test 4	Yeni Nesil Sorular	135
Test 5	Yeni Nesil Sorular	136
Test 6	Yeni Nesil Sorular	137
Test 7	Yeni Nesil Sorular	138

Sözcük Bilgisi

Cümle Bilgisi

Test 8	Sözcük Bilgisi	139
Test 9	Sözcük Bilgisi	141
Test 10	Cümle Bilgisi	143
Test 11	Cümle Bilgisi	145
Test 12	Yeni Nesil Sorular	147
Test 13	Yeni Nesil Sorular	148
Test 14	Yeni Nesil Sorular	149
Test 15	Yeni Nesil Sorular	150

Okuduğunu Anlama

Görsel Okuma

Test 16	Adlar.....	151
Test 17	Görsel Okuma - Özel Adlar - Tekil Ad ve Çoğul Ad	153
Test 18	Şiir Bilgisi - Olayların Oluş Sırası.....	155
Test 19	Şekil, Sembol ve İşaretler - Metin Başlığı ve Konusu.....	157
Test 20	Yeni Nesil Sorular	159
Test 21	Yeni Nesil Sorular	160
Test 22	Yeni Nesil Sorular	161
Test 23	Yeni Nesil Sorular	162

Noktalama İşaretleri Yazım Kuralları

Test 24	Noktalama İşaretleri	163
Test 25	Noktalama İşaretleri	165
Test 26	Yazım Kuralları.....	167
Test 27	Yazım Kuralları.....	169
Test 28	Yeni Nesil Sorular	171
Test 29	Yeni Nesil Sorular	172


HAYAT BİLGİSİ

Okulumuzda Hayat	Test 1	Fiziksel Özelliklerim - Okulumuzda Hayat 173
		Sınıf ve Okul Kuralları - Okulumuzdaki Sorumluluklar 174
		Okulumuzda Hayat 175
Evimizde Hayat	Test 2	Aile İlişkilerim - Yönümü Biliyorum 177
		Tasarruf Ediyorum - Nezaketli Oluyorum - İstek ve Hıtiyaçlar 178
		Evimizde Hayat..... 179
Sağlıklı Hayat	Test 3	Kendime Bakıyorum - Sağlıklı Besleniyorum 181
		Sağlığım 182
		Sağlıklı Hayat 183
Güvenli Hayat		Kendimi Güvende Tutuyorum 185
Ülkemizde Hayat	Test 4	Ülkemi Tanıyorum..... 186
		Ülkemizde Hayat 187
Doğada Hayat	Test 5	Çevremizdeki Hayvanlar..... 189
		Doğada Hayat 190
		Matematik Yanıt Anahtarı..... 191
		Türkçe Yanıt Anahtarı..... 192
		Hayat Bilgisi Yanıt Anahtarı..... 192







1. Hangi renk ayakkabı, ayakkabılıkların arasındadır?

- A) Yeşil
B) Sarı
C) Mavi



2. Tümsekteki hayvanlar hangileridir?

- A) 
B) 
C) 



3. Aylın tatile giderken yanına sadece bir tane ayıcık alacak. Aylın ve annesi arasında geçen konuşma şöyledir:

Anne: Yatağın üzerindeki ayıcığı mı alacaksın kızım?

Aylın: Hayır, çekmece ile yatağın arasındakiini alacağım.

Buna göre Aylın yanına hangi ayıcığını alacaktır?



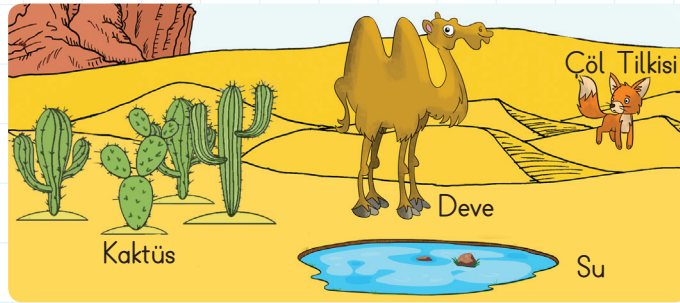
4.



Kasa sırasında, en öndekinin arkasındaki kişinin saçları ne renktir?

- A) Kahverengi B) Siyah C) Sarı

5.



Suya olan devedir.

Yukarıdaki cümledeki boşluğa hangisi gelmelidir?

- A) en uzak B) en yakın C) orta mesafede



6.




1-A sınıfının oturma düzeni yukarıdaki resimde gösterilmiştir.

Buna göre Tuna'nın bir ön sırasındaki öğrencinin solunda kim oturur?

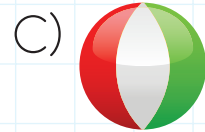
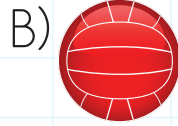

- A) Kutay B) Melis C) Nehir



1.




Yukarıdaki topun eşi hangi seçenekte verilmiştir?



2.

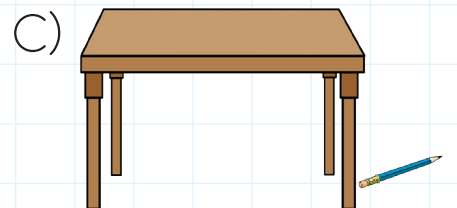

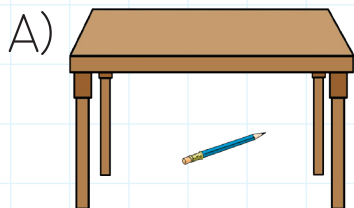


Görseldeki ayakkabının eşi hangisidir?




3.

Hangi görselde kalem masanın altındadır?



4.




Kutunun üstünde bulunan çorabın eşi, kutunun neresindedir?

A) altında

B) solunda

C) sağında

5.



Bardağın içinde vardır.

Yukarıdaki cümledeki boşluk hangisiyle tamamlanmalıdır?

A) süt

B) kurabiye

C) muz



6.



Çınar elindeki çorabın eşini bulmak istiyor ama odası çok dağınık olduğu için bulmakta zorlanıyor.

Çınar çorabın eşini bulmak için nereye bakmalıdır?


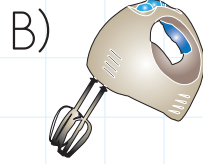
A) Çekmecenin üzerine

B) Çekmecenin içine

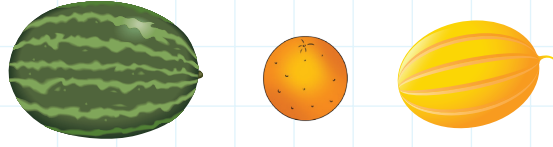
C) Çekmecenin soluna



1. Aşağıdakilerden en ağır olan hangisidir?



2.




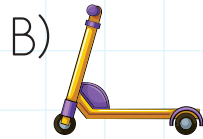
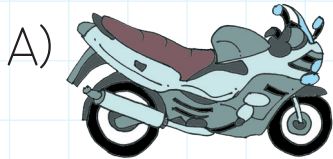
Yukarıdaki meyvelerin en hafifi hangisidir?

A) Karpuz


B) Portakal

C) Kavun

3. Hangi seçenekte verilen nesne diğerlerinden daha hafiftir?




4.



Görselleri verilen hayvanların ağırdan hafife doğru sıralaması aşağıdakilerden hangisidir?



5.



Yukarıdaki varlıkları hafiften ağıra doğru sıralayacağız. Sembolleri kullanarak yapılan sıralama nasıl olmalıdır?

A) ★ ▲ ■

B) ■ ★ ▲

C) ■ ▲ ★



6.



Kerem, Pınar, Nehir ve Burak parkta oynuyorlar. Önce birlikte kaydırağa biniyorlar. Sonra sırayla sallanıyorlar. Daha sonra tahterevalliye binmek istiyorlar.

Bu dört arkadaşın hangi ikisi tahterevalliye binerse, tahterevallinin dengede kalma ihtimali yüksek olur?


A) Kerem - Burak

B) Pınar - Burak

C) Nehir - Burak



1.



Selma Öğretmen, sınıfın dağınık hâlini görünce kızmıştır. Öğrencilerine sınıfı toplamalarını söylemiştir.

Kayra, yukarıdaki sıralardan birinde oturmaktadır. Öğretmen Kayra'ya: "Arkandaki sıranın sandalyesinin altında duran çantayı kaldırır mısın?" demiştir.

Buna göre, Kayra hangi numaralı sırada oturmaktadır?

A) 2

B) 5

C) 3

2.



Annem çekmecedeki ayakkabıları düzenliyor. Bu çekmecedeki bir ayakkabının eşinin olmadığını fark ediyor.

Yukarıdaki çekmecedeki hangi ayakkabının eşisi yoktur?

A)



B)



C)








3.



Bir bahçede yaşayan hayvanlar yukarıda gösterilmiştir. Bu hayvanlardan hangisinin söylediği cümle doğrudur?

- A)  Ben fareden hafifim.
- B)  Ben inekten daha ağıyım.
- C)  Köpek ve fare benden daha hafiftir.

4.



Yukarıdaki renkli balonlardaki nesnelere ağırlıklarına göre sıralanacaktır. En ağır olan-
dan en hafife doğru bu sıralama yapılıyor.

Sıralamada en başta en ağır, en sonda en hafif nesne vardır. Buna göre sıra-
lanmış balonlar nasıl görünür?

- A)   
- B)   
- C)   



- ✓ Okuma - Anlama
- ✓ Bilgi - Uygulama
- ✓ Akıl Yürütme
- ✓ Strateji Geliştirme
- ✓ Tablo, Grafik Okuma
- ✓ Tablo, Grafik Yorumlama
- ✓ Deneme, Yarıma

5.



Yeşim

Yeşim, Kaan'dan
daha ağırdır.



Deniz

Deniz, Yeşim'den
daha hafiftir.



Kaan

Kaan, Deniz'den
daha ağırdır.

Yukarıda üç arkadaşın ağırlıkları ile ilgili bilgiler verilmiştir.

Buna göre hangi seçenekte verilen bilgi doğrudur?

A) En hafif olan kişi:




B) Kaan'dan ağır olan kişi:



C) En ağır olan kişi:



6.



Yukarıdaki resimde hangi hayvanlar kediden yukarıdadır?

A) ve


B) ve

C) ve



- ✓ Okuma - Anlama
- ✓ Bilgi - Uygulama
- ✓ Akıl Yürütme
- ✓ Strateji Geliştirme
- ✓ Tablo, Grafik Okuma
- ✓ Tablo, Grafik Yorumlama
- ✓ Deneme, Yanılma

7.



Anıl



Serap



Bülent



Ela

Bir koşu yarışını koşan çocuklar yukarıda gösterilmiştir. Yarışta Anıl 1. sıradadır.

Bülent 2. olan kişiyi geçerse yarışta kaçınıcı olur?

A) 1.


B) 2.

C) 3.

8.



Yusuf



Bahçemize bir fidan diktim. Bu fidanın farklı zamanlarda fotoğraflarını çektim.

Yusuf'un çektiği fotoğraflar yukarıda sayılarla gösterilmiştir. Buna göre ağaç hangi fotoğrafta en ağırdır?

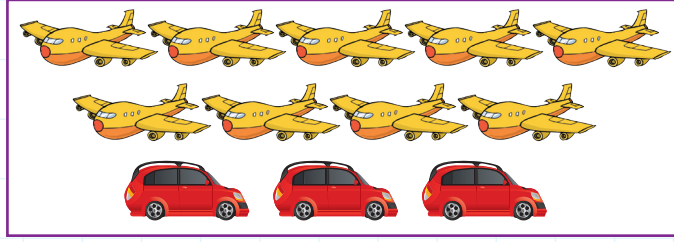
A) 1

B) 2

C) 3



1.



Yukarıdaki görselde kaç tane hava aracı vardır?

A) 9

B) 10

C) 12


2.

Benim yaşadığım ağaçta
on iki tane limon var.



Yukarıdaki tırtılın yaşadığı ağaç hangisidir?


A)



B)



C)



3.



15

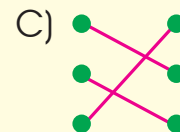
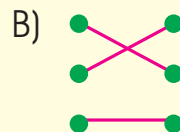
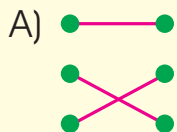


16



14

Yukarıdaki varlıkların, adetleriyle eşleştirmesi hangi seçenekteki gibi olmalıdır?



4.

on yedi •

• 9

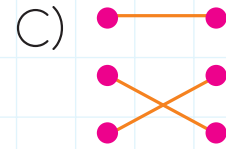
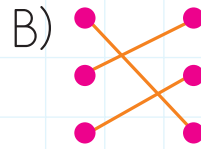
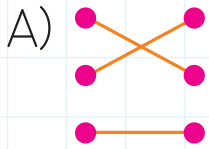
dokuz •

• 20




yirmi •

• 17

Yukarıda verilen sayılarla, sayıların okunuşlarının doğru eşleştirmesi aşağıdakilerden hangisidir?



5. Aşağıdaki sepetlere, verilen sayılar kadar meyve konacaktır. Hangi sepette **yanlış** sayıda meyve vardır?






6.



Benim bahçemde yedi ağaç vardır. Bahçemdeki kulübe kırmızıdır.

Arın'nın bahçesi hangisidir?





1. Küçük maymunun olduğu ağaçtaki sayıdan bir önce ve bir sonra hangi sayılar gelir?

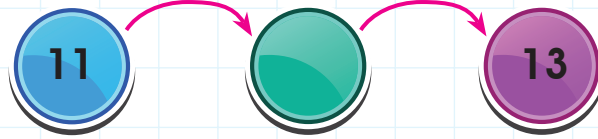


Önce

Sonra

- A) 16 17
B) 17 19
C) 19 20

2.




Yukarıda verilen sayıların arasında hangi sayı olmalıdır?

- A) 12 B) 14 C) 10



3.



Bahçedeki civcivlerin ayak sayıları toplamı kaçtır?

- A) 8 B) 14 C) 16

4.

1 16'dan önce gelen sayı kaçtır?

17 15

2 12'den sonra hangi sayı gelir?

13 11

3 17 ile 19'un arasında hangi sayı vardır?

16 18

Verilen sorular sırayla cevaplanacaktır. Doğru cevaplar yanlarından işaretlenecektir.

Yukarıdaki soruların yukarıdan aşağıya doğru yanıtları hangi seçenekte verilmiştir?

A) 15
13
18

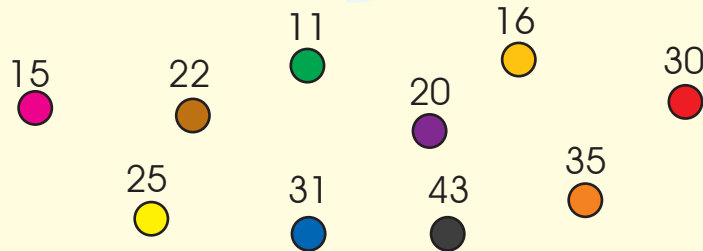
B) 15
11
18

C) 17
13
16



5.

10



Ali, yeşil kutunun içinde yazan sayıdan başlayıp ileriye doğru beşer ritmik sayma yapacaktır. Söylediđi sayıların renklerini sırasıyla defterine boyayacaktır.

Ali'nin defterine boyadıđı renkleri hangileridir?

A) ● ● ● ● ●

B) ● ● ● ● ●

C) ● ● ● ● ●